

Start med plus og minus – Algebra 1

Copyright: Forlaget Meloni 2016

Forfatter: Hanne Vilhelmsen

Tegninger: Steen Andersen

Printed by Handy-print 2016

1. udgave, 1. oplag

ISBN: 978-87-7150-052-3

Forlaget Meloni

Pakhusgården 36C

5000 Odense C

post@meloni.dk – meloni.dk

Taltavle



1	2	3	4	5	6	7	8	9	10
11	12	13	14	15	16	17	18	19	20
21	22	23	24	25	26	27	28	29	30
31	32	33	34	35	36	37	38	39	40
41	42	43	44	45	46	47	48	49	50
51	52	53	54	55	56	57	58	59	60
61	62	63	64	65	66	67	68	69	70
71	72	73	74	75	76	77	78	79	80
81	82	83	84	85	86	87	88	89	90
91	92	93	94	95	96	97	98	99	100

Brug taltavlen til tælle på, hvis du får brug for det i nogle af opgaverne.

Skriv fine tal og farv dem flot



1 1 1





2 2 2





3 3 3



Tæl og farv





Tæl pletterne

	
$4+3=$	



6

	
$6+9=$	



7

	
$1+7=$	



8

	
$2+4=$	



9

	
$7+2=$	



10

	
$4+8=$	

11

	
$3+7=$	

~~12~~

	
$6+5=$	

15

Og tjek om du har regnet rigtigt.

Brug prikkerne til at tælle på, hvis du har brug for det. Kryds tallene af i firkanterne.

Skriv fine tal og farv dem flot



4 4 4



5 5 5



6 6 6

Tegn fra prik til prik



Regn og gæt sangen

a
6 + 2 = ____

d
2 + 3 = ____

e
5 + 9 = ____

g
9 + 7 = ____

h
1 + 0 = ____

i
9 + 2 = ____

j
1 + 1 = ____

k
8 + 5 = ____

l
6 + 6 = ____

n
4 + 5 = ____

o
4 + 6 = ____

r
5 + 2 = ____

s
2 + 2 = 4

t
7 + 8 = ____

v
2 + 4 = ____

ø
1 + 2 = ____

S

4 14 5 14 9 12 11 12 12 14

13 8 15 15 14 13 11 12 12 11 9 16

9 14 2 1 6 10 7 14 7

5 14 9 4 3 5





Regn plusstykkerne. Skriv bogstaverne der står i hjørnerne på de streger, hvor de passer.

Skriv fine tal og farv dem flot



7 7 7










8 8 8



9 9 9


Farv tegningen

4 =  5 =  6 = 
7 =  8 =  9 = 



Regn plusstykkerne og tjek hvilken farve, du skal farve feltet.



Tæl hundene



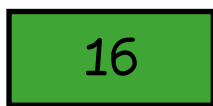
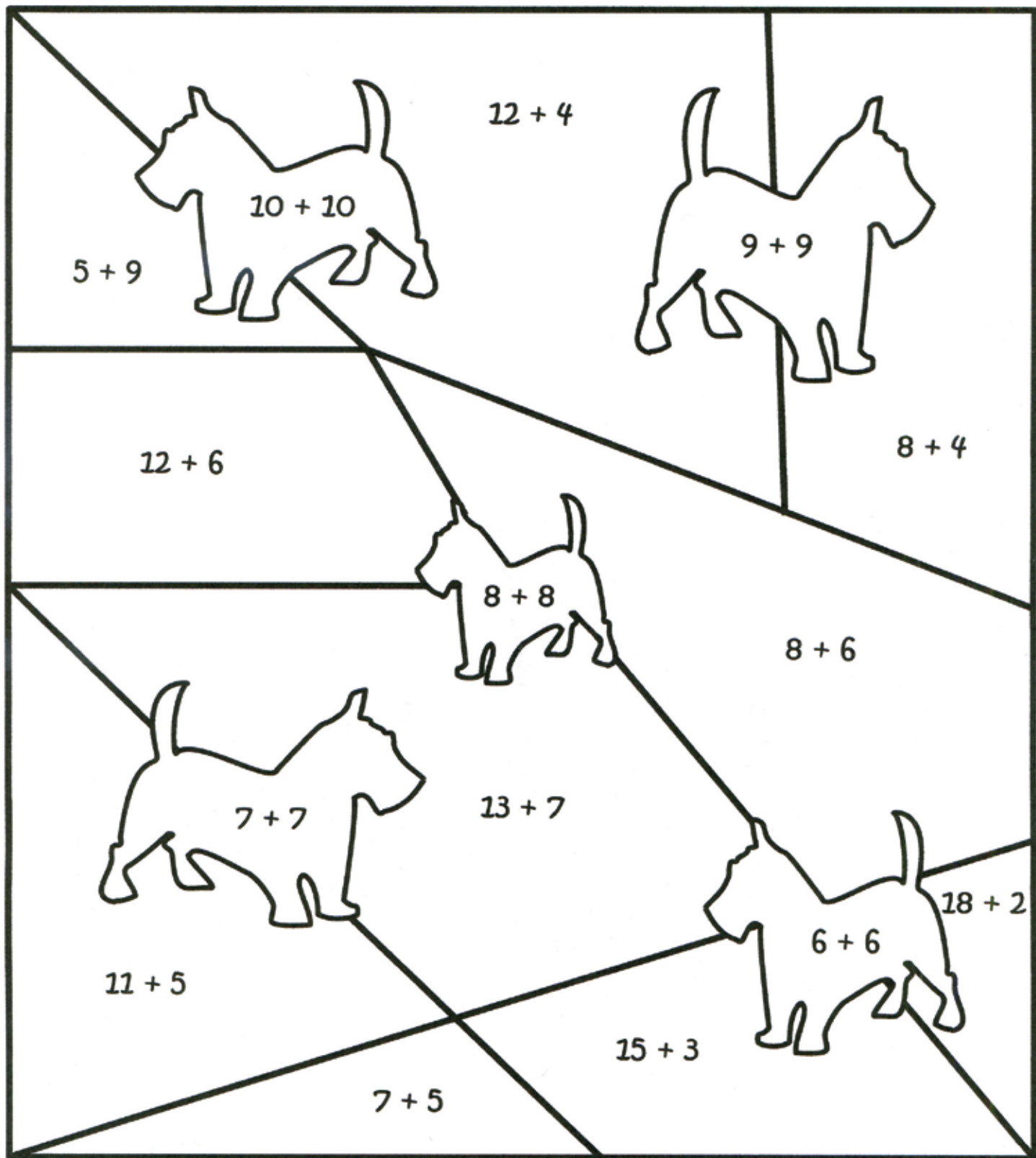
							I alt
							35

Du må gerne sætte et kryds på de hunde du har talt, så er de nemmere at holde styr på.

Hvem vandt?



Plus og farv








Regn plusstykkerne og farv felterne i de rigtige farver.

Tips: To ens farver må aldrig røre hinanden.

Hunde-træning



Tæl og skriv hvor mange kødben, drenge, piger, hvide hunde med prikker osv. du ser.

Minus og farv

14 - 9

12 - 4

10 - 4

15 - 9

9 - 7

10 - 8

10 - 6

9 - 4

13 - 9

11 - 3

8 - 2

10 - 2

7 - 5

10 - 5

7 - 2

11 - 7

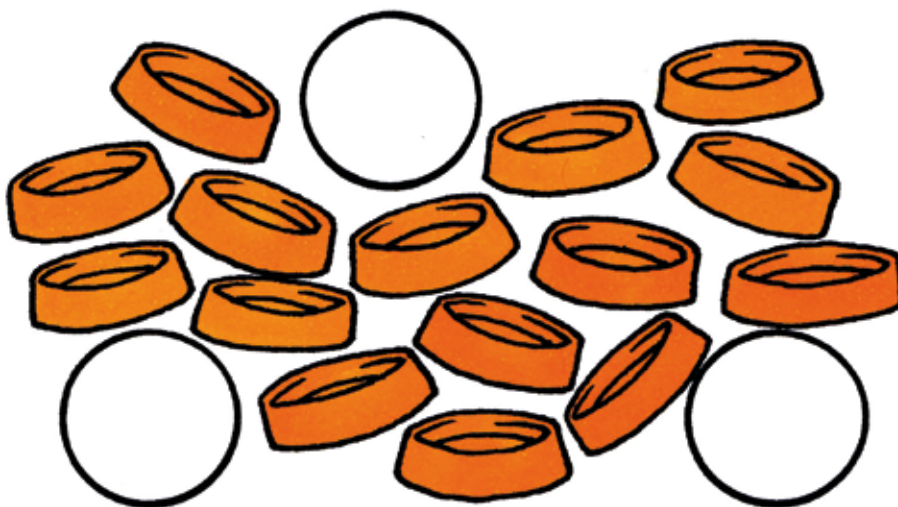
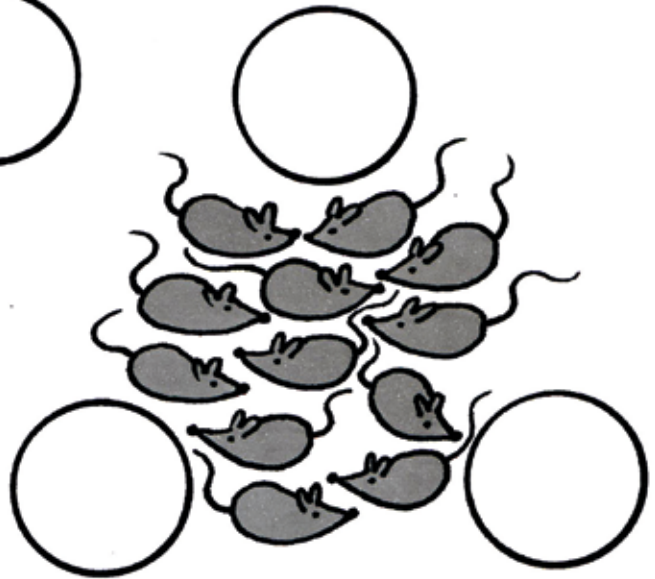
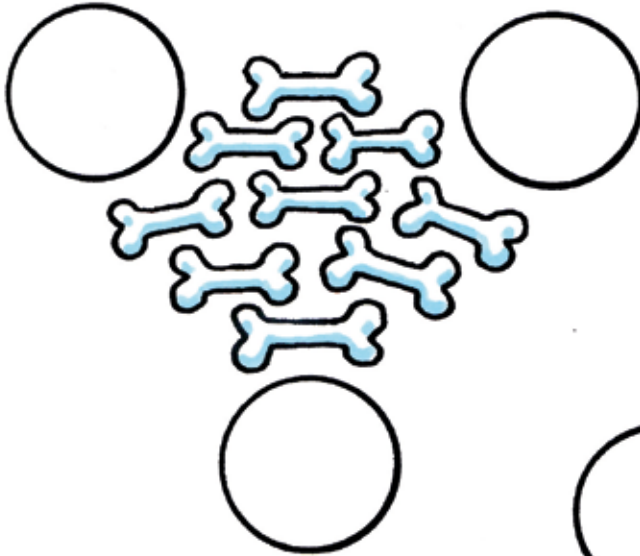
16 - 8



Regn minusstykkerne og farv felterne i de rigtige farver.

Tips: To ens farver må aldrig røre hinanden.

Tæl og del med 3



Sæt streger i cirklerne efterhånden som du deler ud. Husk at dele tingene, så der bliver lige mange streger i de tre cirkler.

Regn og farv

11

13


15

17

$5 + 6 =$	$11 + 2 =$	$5 + 10 =$
$7 + 10 =$	$3 + 8 =$	$4 + 9 =$
$17 - 2 =$	$16 + 1 =$	$15 - 4 =$
$8 + 5 =$	$20 - 5 =$	$13 + 4 =$
$2 + 9 =$	$1 + 12 =$	$16 - 1 =$
$8 + 9 =$	$1 + 10 =$	$6 + 7 =$
$13 + 2 =$	$14 + 3 =$	$13 - 2 =$
$15 - 2 =$	$18 - 3 =$	$12 + 5 =$
$14 - 3 =$	$10 + 3 =$	$11 + 4 =$
$19 - 2 =$	$12 - 1 =$	$16 - 3 =$
$12 + 3 =$	$11 + 6 =$	$7 + 4 =$



Plus med fire



Brug hundens poter til at tælle på. 1 2 3 4, 5 6 7 8, 9 10 11 12, osv. Tegn streger mellem potesporene. Se nu har du hele 4-tabellen.

Hund efter kat



$2 + 3 =$	$1 + 8 =$	$7 + 1 =$	$6 + 2 =$	$3 + 7 =$	$0 + 10 =$
$2 + 2 =$	$6 + 1 =$	$5 + 4 =$	$1 + 4 =$	$5 + 5 =$	$4 + 4 =$
$1 + 7 =$	$5 + 3 =$	$2 + 4 =$	$1 + 1 =$	$2 + 8 =$	$2 + 3 =$
$6 + 4 =$	$8 + 2 =$	$7 + 3 =$	$1 + 9 =$	$4 + 6 =$	$8 + 1 =$
$1 + 9 =$	$7 + 2 =$	$1 + 5 =$	$5 + 1 =$	$2 + 1 =$	$2 + 5 =$
$10 + 0 =$	$2 + 7 =$	$5 + 2 =$	$6 + 3 =$	$3 + 3 =$	$2 + 6 =$



Farv de felter, der giver 10.

Når du har farvet de felter der giver 10, kan du se, hvilken vej hunden skal gå for at fange katten.

Skriv fine tal og farv dem flot

11 11



11

11 11

12 12



12

12 12







13 13



13

13 13

Tæl fisk



Tæl fiskene og skriv antallet. Har du brugt alle tallene fra 1 til 9, har du talt rigtigt.

Hvem er venner?

0 1 2 3 4 5

5 6 7 8 9 10

10+0=10

Hundenes numre skal give 10 tilsammen.
Tegn streger mellem hundene. Har alle en ven?

Skriv fine tal og farv dem flot



14 14

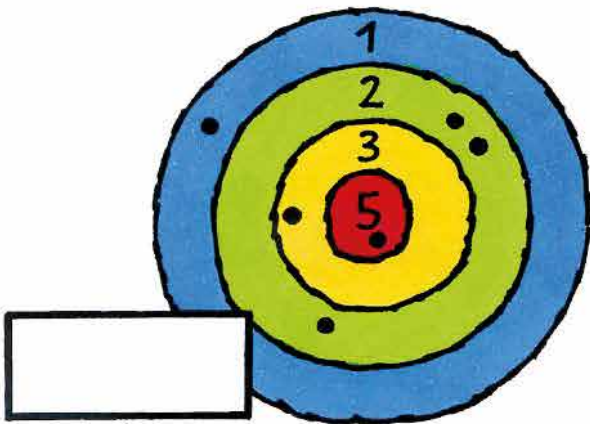


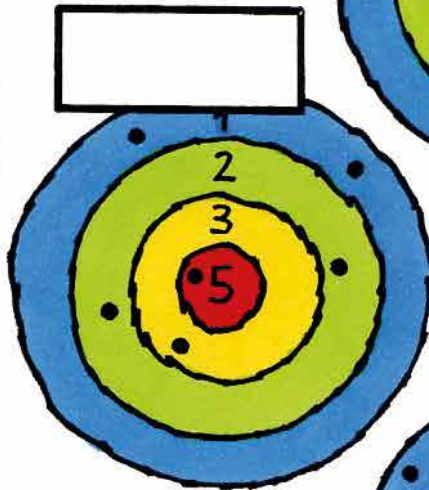
15 15

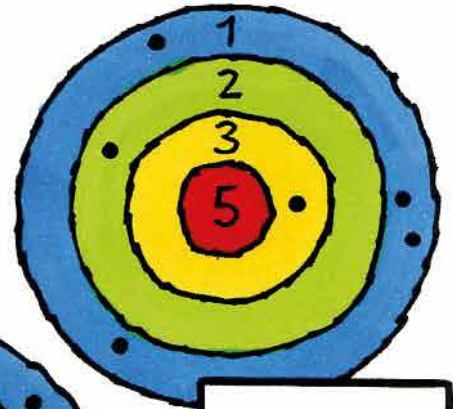


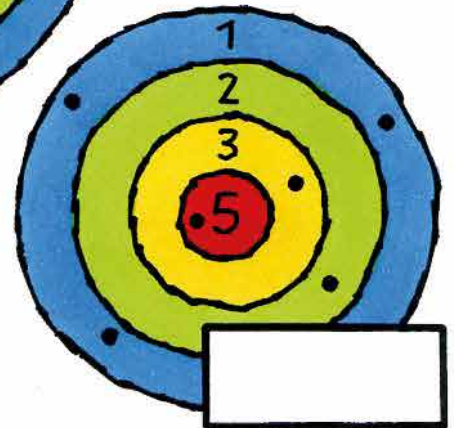
16 16

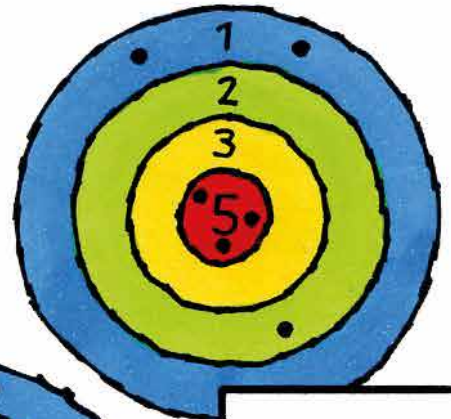
Robin Hund skyder med bue og pil


















14	16	9
13	15	19

Tæl hvor mange point han får.
Tjek om du har regnet rigtigt.

Kaptajn Kats guldskatte



8	13	16
19	21	22

Tæl hvor mange guldmønter han har
Tjek om du har regnet rigtigt.

Skriv fine tal og farv dem flot

17 17 

17

17 17

18 18 

18

18 18







19 19 

19

19 19






Se og tæl




					

Tæl og skriv hvor mange katte, ænder, burgere, bolde osv. du ser.



					
					40

Det var kattens



+	7	3	I alt
11			4
12			4

+	8	9	10
9			
3			
I alt	6	6	6

+	4	2	-
1	$1+4=5$	$1+2=3$	$5-3=2$
3			2
5			2
7			2
9			2




+	5	3	4	2
8				
5				
-	3	3	3	3

+	1	2	3	4	5
10					
5					
-	5	5	5	5	5

Læg tallene sammen, som du ser katten gøre øverst til højre.

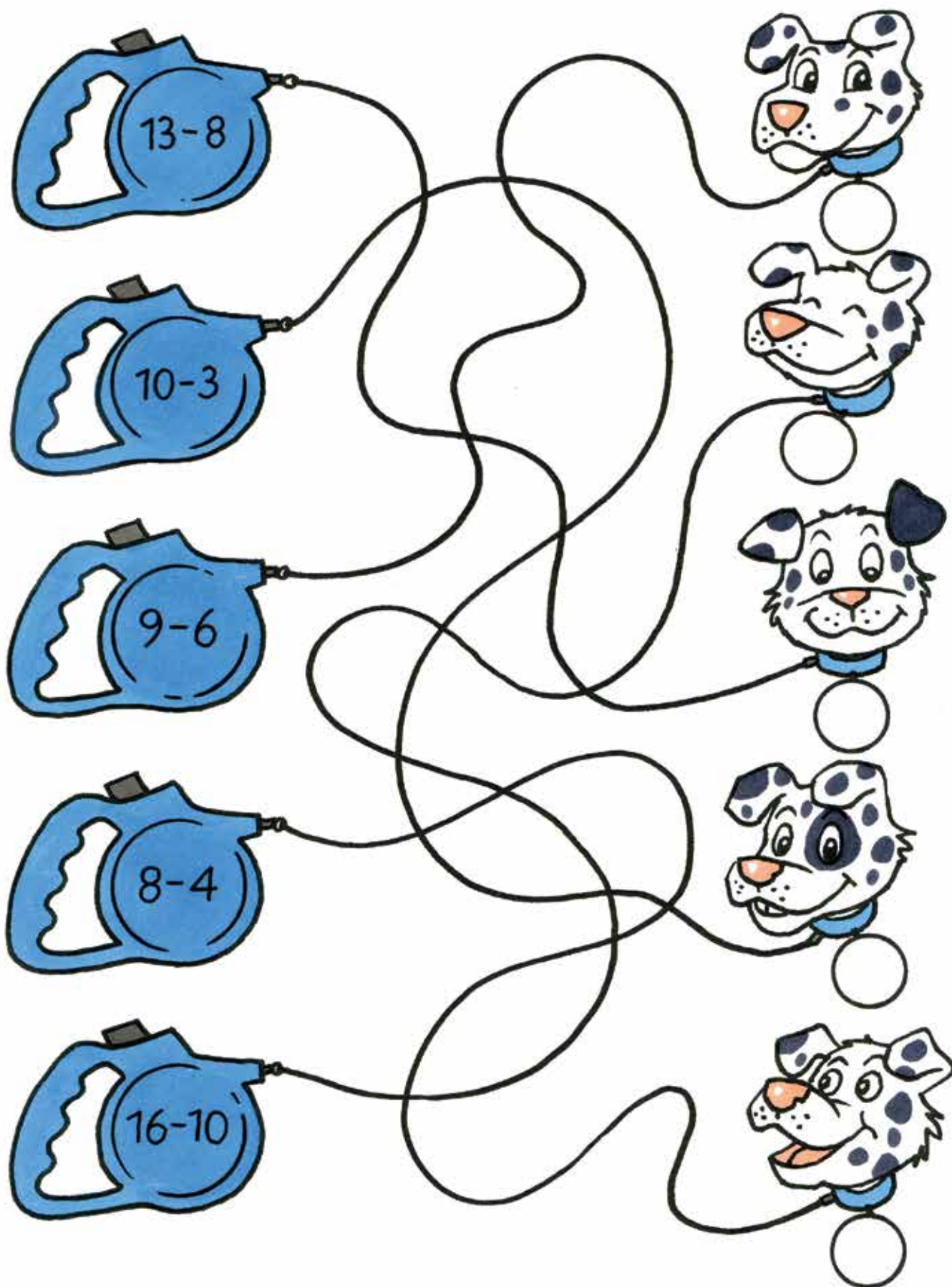
Når du har regnet stykkerne, kan du lægge tallene sammen og se, om du har regnet rigtigt.

I mørke er alle katte grå



Hvor mange katte har gemt sig på billederne?
Tjek om der er 25 katte på billedet i alt.

Øv, der er kludder i hundesnorene



Hjælp hundene med at få den rigtige snor på.

Regn minusstykket på håndtaget, følg snoren til den rigtige hund og skriv tallet på hundetegnet.



Café Matematik er matematikhæfter til brug i skolens lektiecafé eller hvor der er behov for matematikmaterialer, som eleverne kan arbejde i individuelt og på hver deres niveau.

Opgaverne er selvkontrollerende, og forklaringerne er skrevet med enkle ord og sætninger eller illustreret med små tegninger.

Opgavehæfterne er ikke klasseinddelte, da de netop skal passe til den enkelte elevs niveau, men hæfterne følger trinmålene for indskoling.

I dette hæfte øves:

Taltræning, talgenkendelse og antalsbestemmelse.

De naturlige tals opbygning og ordning, talfølger, addition og subtraktion. Enkel træning af talfordobling, halvering og deling.



ISBN 978-87-7150-052-3

